

2 上目錄

練習

課題

學習重點

頁次

1	三位數	<ul style="list-style-type: none"> 三位數的數數、讀數和寫數 認識三位數的各位值 比較三位數的大小 	2
2	每 50、100 個一數	<ul style="list-style-type: none"> 進行每 50 個、100 個一數 每 50 個、100 個一數的應用題 	4
3	加法（一） * 不進位及一次進位	<ul style="list-style-type: none"> 加法計算及相關題目 加法應用題 	6
4	加法（二） * 兩次進位	<ul style="list-style-type: none"> 加法計算及相關題目 加法應用題 	8
5	米	<ul style="list-style-type: none"> 認識「米」作為較大的量度單位 量度及比較長度和距離 選擇合適的工具進行量度 	10
6	角和直角	<ul style="list-style-type: none"> 認識角和直角 比較角的大小 製作角 	12
7	減法	<ul style="list-style-type: none"> 減法計算及相關題目 減法應用題 	14
8	柱體和錐體	<ul style="list-style-type: none"> 直觀辨認各種柱體和錐體 把立體圖形分類 製作立體圖形 	16
9	2、5 和 10 的乘法	<ul style="list-style-type: none"> 認識乘法的基本概念 乘法計算及相關題目 乘法應用題 	18
10	4 和 8 的乘法	<ul style="list-style-type: none"> 乘法計算及相關題目 乘法應用題 	20
11	時和分	<ul style="list-style-type: none"> 以時和分報時 量度活動所用的時間 計算活動的開始和結束時間 	22
12	一天的時間	<ul style="list-style-type: none"> 認識上午和下午 量度活動所用的時間 計算活動的開始和結束時間 	24
13	3 和 6 的乘法	<ul style="list-style-type: none"> 乘法計算及相關題目 乘法應用題 	26
14	7 和 9 的乘法	<ul style="list-style-type: none"> 乘法計算及相關題目 乘法應用題 	28
15	有趣的乘法	<ul style="list-style-type: none"> 認識乘法交換性質 認識 0 和 1 的乘法 	30
16	年、月、日	<ul style="list-style-type: none"> 認識每月的日數 認識「平年」及「閏年」的日數 閱讀月曆 	32

常犯錯誤

34

測驗一

36

測驗二

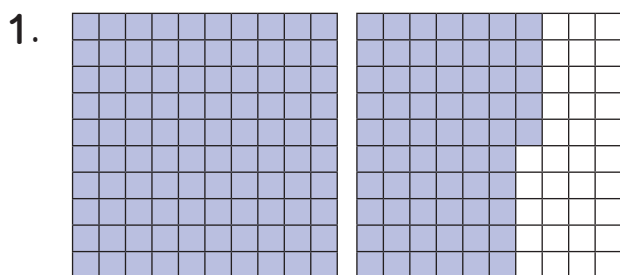
40

考試

44

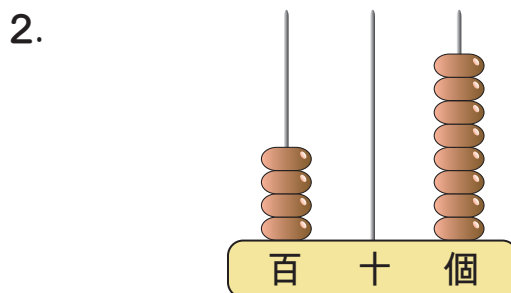


A. 三位數的數數、讀數和寫數



(a) 讀作：_____

(b) 寫作：_____



(a) 讀作：_____

(b) 寫作：_____

3. 用阿拉伯數字寫出「七百四十三」。

答案：_____

B. 認識三位數的各位值

4. (a) _____ 位數字是「4」，位值是 _____。

423

(b) _____ 位數字是 _____，數值是「3」。

(c) $423 = \underline{\hspace{2cm}} + \underline{\hspace{2cm}} + \underline{\hspace{2cm}}$
(百位數值) (十位數值) (個位數值)

5. 在258這個數中，數字「5」表示的數值是* 500 / 50 / 5。

(*圈出答案)

6. 以下哪一個數的百位數字是「6」而個位數字是「7」?

A. 679

B. 976

C. 697

D. 796



7.

數字「6」的數值是600，數字「4」是在個位，
十位數字比百位數字小，但比個位數字大。

根據上面指示，這個三位數是 _____。



日期

成績

C. 比較三位數的大小

8. 用1、4和9可組成最大的三位雙數是_____。

9. 把756、675和765由大至小排列起來。

答案：_____, _____, _____
 (最大) (最小)

10.



A牌
390 元



B牌
318 元



C牌
385 元

(a) _____ 牌手袋最貴，_____ 牌手袋最便宜。

(b) 如果潔玲想買一個售價在350元至400元之間的手袋，她所有可選擇的手袋牌子是_____。

11. 從右面選取最適當的三位數，填在空格內。

203 < < < 275
 (最小) (最大)

250 202 269
 300 290 303



12. 郭太太參加商場舉辦的抽獎活動，她的獎券編號是819。

(a) 商場預備了45份紀念品，已派出22份，還餘_____份。

(b) 大會公佈可獲得大獎的獎券編號是比900小的最大單數。

郭太太* 獲得 / 沒有獲得 大獎。(*圈出答案)



常犯錯誤

三位數

常錯點

1. 混淆數值和位值。

例 在 357 這個數中，「3」的位值是 300。✗

在 357 這個數中，「3」的位值是 100。✓

2. 讀出三位數時，漏讀十位的「零」字。

例 705 讀作 七百五。✗

705 讀作 七百零五。✓



在 408 這個數中，「4」所代表的數值是多少？這個三位數讀作甚麼？

米

常錯點

判斷物件的長度單位時，沒有留意題目中涉及的物件及其相關數字。

例 一張桌子長 200 米。✗

一張桌子長 200 厘米。✓



哪一個長度單位最適合用來量度一支燈柱的高度？

減法

常錯點

列式作答時，混淆被減數和減數。

例 一包糯米售 \$59，一包白米售 \$86，兩包米的售價相差多少？

相差：

$$59 - 86$$

$$= \$27$$



相差：

$$86 - 59$$

$$= \$27$$



一本故事書有 80 頁，一本漫畫書有 64 頁，兩本書相差多少頁？





一 計算下列各題。(每題2分，共20分)

1. $2 \times 6 =$ _____

2. $4 \times 8 =$ _____

3. $6 \times 7 =$ _____

4. $5 \times 4 =$ _____

5. $9 \times 5 =$ _____

6. $3 \times 2 =$ _____

7. $8 \times 3 =$ _____ $\times 8$

8. $7 \times 9 =$ _____ $\times 7$

9. $10 \times$ _____ $= 40$

10. _____ $\times 4 = 28$

二 回答下列各題。(每題或每分題2分，共36分)

11. 在「 $7 \times 2 = 14$ 」這道乘式中，_____ 是積。12. 如果 $\diamond + \diamond + \diamond + \diamond + \diamond = 25$ ，那麼 $\diamond =$ _____。

13. 以下哪些算式的答案相同？圈出所有答案。

8×3

$3 + 8$

$8 + 8 + 8$

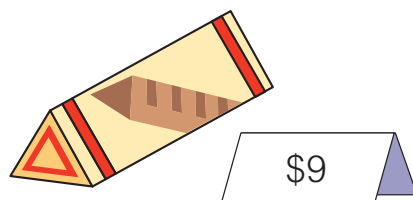
3×8

$3 + 3 + 3$

14. 5個空的雞蛋盒子內共有 _____ 隻雞蛋。

15. 書架上每層有10本書，第二層至第四層共有 _____ 本書。

16.




(a) 買半打波板糖，共須付\$ _____。

(b) 買一包棉花糖的款項可以買5塊波板糖，棉花糖售\$ _____。

(c) 買3塊波板糖的款項剛好可以買 _____ 排巧克力。

17. 合唱隊有4名男隊員，男隊員的人數是女隊員的一半。合唱隊有
_____名女隊員。

18. 蛋糕師傅今天做了6個草莓蛋糕，共用去
_____粒草莓。



19. 鋼琴班每堂長45分鐘。敏德的鋼琴班在 11:20 AM 開始，他將在
_____午 _____時 _____分下課。

20. 今年是閏年，右圖是今天的日曆。

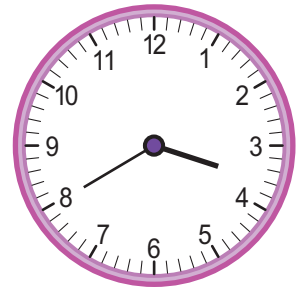
(a) 下星期一是 _____月 _____日。

(b) 媽媽在2月24日外遊，五天後回港。媽媽
在星期 _____回港。



21. (a) 右圖的時鐘顯示志朗放學的時間。他在
下午 _____時 _____分放學。

(b) 志朗在34分鐘後回到家，當時是下午
_____時 _____分。



22. 以下是電視台某段時間的節目時間表。

節目	《卡通天地》	《新聞專題》	《家庭影院》	《媽媽煮意》
開始時間	11:25 a.m.	12:10 p.m.	1:05 p.m.	2:10 p.m.

(a) 《卡通天地》共播放 _____小時 _____分鐘。

(b) 右面顯示下午美珍看手錶的時間，當時是
_____午 _____時 _____分，
再過 _____分鐘便開始播放《家庭影
院》。



(c) 下午1時正在播放《_____》。(填上節目名稱)