



1 上目錄

1	位置	2
2	20 以內的數	4
3	順數和倒數	6
4	單數和雙數 	8
5	次序和數量	10
6	認識 2 至 10	12
7	認識 11 至 18 	14
8	長度 	16
9	距離	18
奇趣紀錄簿		20
測驗 1		22
10	加法的認識 	26
11	有趣的加法	28
12	減法的認識	30
13	0 的認識	32
14	加和減	34
15	認識 100 以內的數	36
16	個位和十位 	38
17	100 以內的單數和雙數	40
18	數數方法	42
數學迷蹤 1		44
數學迷蹤 2		45
測驗 2		46
考試		50



位置

1

溫習一刻

我們可用上、下、左、右、前、後和之間描述物件的相對位置。

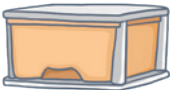



藍色枕頭在 * 左面 / 右面，黃色熊在 * 左面 / 右面，


紫色星星在藍色枕頭和黃色熊之間。（* 圈出答案）



依圖意，圈一圈。

1.  在（上面 / 下面）。

2.  在（上面 / 下面）。



依圖意，填一填。


3.  在  的 _____ 面。

4.  在  的 _____ 面。

5.  在  和  _____ 。



6.




(a)  在 _____ 面， 在 _____ 面。

(b)  在 *  /  和  之間。(* 圈出答案)


7. 以下哪一組的網球在扭計骰的上面？



8. 1A 班學生正在排隊放學。



(a) 敏兒 在 子俊 的 _____ 面，在 欣欣 的 _____ 面。

(b)  的前面是 * 子俊 / 敏兒 。（* 圈出答案）

(c)  的後面是 _____。

(d) 少楓 在  和  之間，在上圖圈出 少楓。


測驗 1

測驗範圍：練習 1 至 9
 限時：30 分鐘

(一) 在 _____ 上填上答案。(每題或每分題 2 分，共 16 分)



上圖共有曲奇餅 _____ 塊。



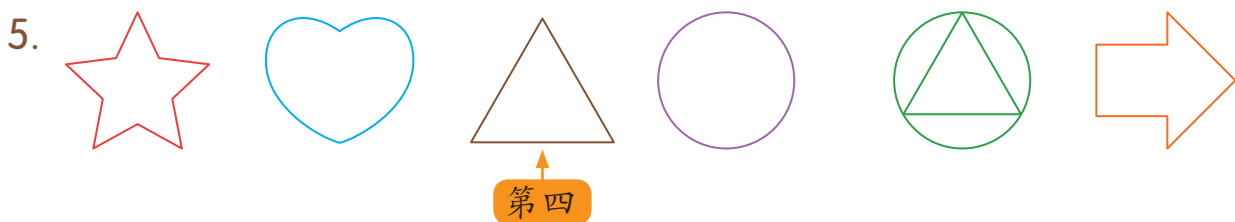
根據以上的規律，●是 _____。



(a) 6 和 合成 。

(b) + =

4. 由「9」開始倒數，下一個數是 _____。



以上共有圖案 _____ 個， 排第 _____。

6. 在 20 以內，最大的單數是 _____。



上圖中，鉛筆的長度約是 _____ 塊 。