



2上目錄

1	三位數 	2
2	數數活動	4
3	兩個數的加法	6
4	三個數以內的加法	8
5	兩位數以內的減法	10
6	加減應用題 	12
7	角	14
8	垂直線	16
9	四個主要方向	18
奇趣紀錄簿		20
測驗 1		22
10	乘法的認識	26
11	乘法的計算 (一) 	28
12	乘法的計算 (二)	30
13	乘法應用題 	32
14	報時	34
15	一天的時間	36
16	日期 	38
17	立體圖形	40
18	記時方法和計時工具 (增潤)	42
數學迷蹤 1		44
數學迷蹤 2		45
測驗 2		46
考試		50



三位數

1

溫習一刻

比較三位數的大小時，先比較百位數字，若數字相同，再依次比較十位和個位數字。

在 \square 內填上 $>$ 、 $<$ 或 $=$ 。

247 \square 249



① 先比較百位數字，數字相同。

② 再比較十位數字，數字相同。

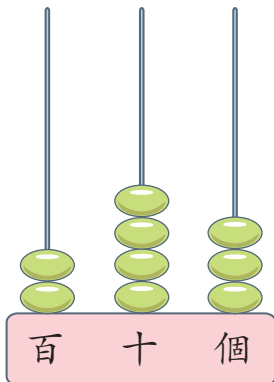
③ 最後比較個位數字， $7 < 9$ 。



常見題目

寫出算柱表示的三位數的寫法和讀法。

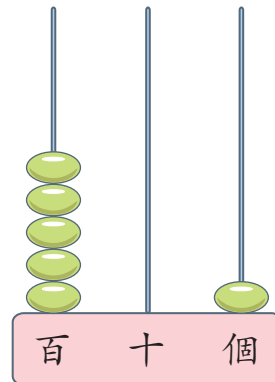
1.



寫作：_____

讀作：_____

2.



寫作：_____

讀作：_____

依順數或倒數，填上數字。

3.



4.





日期：



分數：

5. 823 是一個 * 單數 / 雙數，數字「8」表示的數值是 _____。
(* 圈出答案)

6. 依指示，排列以下各數。

(a) 184, 176, 201 _____ < _____ < _____

(b) 315, 312, 322 _____ > _____ > _____

7. 以下哪一個數的百位數字是「2」，而個位數字是「5」？

- A. 125 ○ B. 251
○ C. 512 ○ D. 215



提示魔鏡

可先剔除百位數字不是「2」的選項。

8. 下表顯示玩具展前三天的參觀人數，把它們由少至多排列起來。

日子	第一天	第二天	第三天
參觀人數	784	687	653

答案：_____， _____， _____
(最少) (最多)



9. 子明利用 5、9 和 8 組成一個最大的三位雙數，它是 _____。

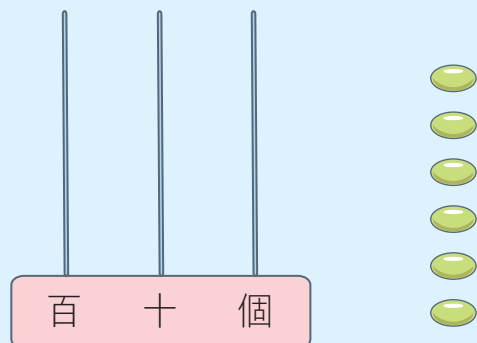


提示魔鏡

要組成三位雙數，個位要放哪一個數字？



把 6 粒算珠放在算柱上，以表示最小的三位數，這個數是 _____。



測驗 1

測驗範圍：練習 1 至 9
 限時：30 分鐘

(一) 計算以下各題。(每題 2 分，共 8 分)


- $316 + 97 =$ _____
- $45 - 26 =$ _____
- $25 + 37 + 88 =$ _____
- $89 - 18 - 25 =$ _____

(二) 在 _____ 上填上答案。(每題或每分題 2 分，共 10 分)



以每 25 罐一數，上圖有 _____ 個 25，共有汽水 _____ 罐。

6. 太陽眼鏡以特價 68 元出售，
便宜了 _____ 元。



7. 3 個 50 多 25 是 _____。

8. 右面是動物園的部分平面圖。

(a) 天鵝池在蝴蝶館的 _____ 方。

(b) 嘉宇由熊貓館向 _____ 方
 走到金魚館，再向西方走，
 便到達 _____。

