



# 3上目錄

|        |   |    |
|--------|---|----|
| 1      | 五位數         | 2  |
| 2      | 公里  | 4  |
| 3      | 毫米  | 6  |
| 4      | 乘法 (一)  | 8  |
| 5      | 乘法 (二)  | 10 |
| 6      | 乘法 (三)  | 12 |
| 7      | 乘法應用題        | 14 |
| 8      | 時間應用題        | 16 |
| 9      | 秒   | 18 |
| 奇趣紀錄簿  |   | 20 |
| 測驗 1   |   | 22 |
| 10     | 除法 (一)  | 26 |
| 11     | 除法 (二)  | 28 |
| 12     | 除法應用題     | 30 |
| 13     | 認識及比較重量  | 32 |
| 14     | 克和公斤  | 34 |
| 15     | 平行線   | 36 |
| 16     | 平行四邊形   | 38 |
| 17     | 梯形  | 40 |
| 18     | 24 小時報時制  | 42 |
| 數學迷蹤 1 |   | 44 |
| 數學迷蹤 2 |   | 45 |
| 測驗 2   |   | 46 |
| 考試     |   | 50 |



# 五位數

1

## 溫習一刻

五位數由左至右的數位是：

|    |    |    |    |    |
|----|----|----|----|----|
| 萬位 | 千位 | 百位 | 十位 | 個位 |
|----|----|----|----|----|

- ❖ 如個位數字是 1、3、5、7 或 9，該數便是單數。
- ❖ 如個位數字是 2、4、6、8 或 0，該數便是雙數。

寫出「30 062」的讀法。

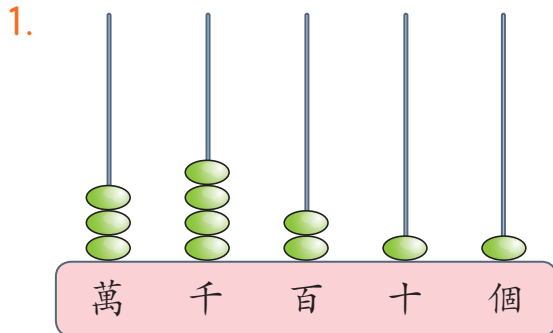
答案：\_\_\_\_\_

|   |   |   |   |   |
|---|---|---|---|---|
| 萬 | 千 | 百 | 十 | 個 |
| 3 | 0 | 0 | 6 | 2 |



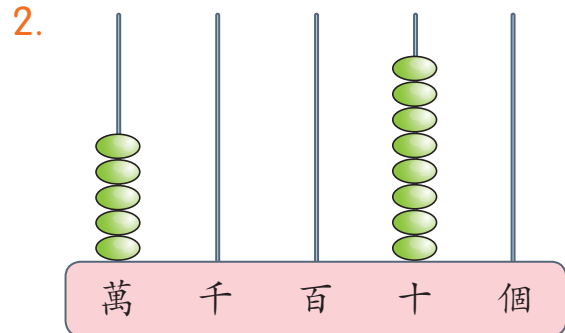
常見題目

寫出以下算柱表示的五位數的讀法和寫法。



讀作：\_\_\_\_\_

寫作：\_\_\_\_\_



讀作：\_\_\_\_\_

寫作：\_\_\_\_\_

依規律填一填，圈一圈。

3. 

|        |        |        |  |        |  |
|--------|--------|--------|--|--------|--|
| 10 789 | 10 790 | 10 791 |  | 10 793 |  |
|--------|--------|--------|--|--------|--|

這是（ 順數 / 倒數 ）。

4. 

|        |        |  |        |  |  |
|--------|--------|--|--------|--|--|
| 23 405 | 23 404 |  | 23 402 |  |  |
|--------|--------|--|--------|--|--|

這是（ 順數 / 倒數 ）。



日期：



分數：

5. 以下哪些數是雙數？圈出所有答案。

13 549

46 783

25 674

10 425

39 628

6. 下表顯示三場足球比賽的入場人數。

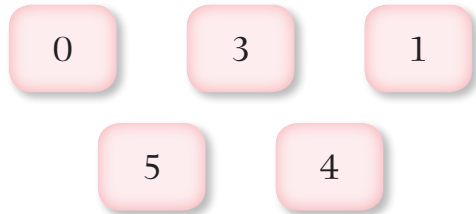
| 場次   | 第一場    | 第二場    | 第三場    |
|------|--------|--------|--------|
| 入場人數 | 20 521 | 36 485 | 21 592 |

(a) 把入場人數由少至多排列起來。

答案：\_\_\_\_\_， \_\_\_\_\_， \_\_\_\_\_  
 (最少) (最多)

(b) 在三場比賽中，A 隊對 B 隊的入場人數少於 21 000 人，這場比賽是第 \_\_\_\_\_ 場。

7. 利用右面的數卡組成：



(a) 最小的五位數：\_\_\_\_\_

(b) 最大的五位單數：\_\_\_\_\_

8. 把三個五位數由大至小排列如下：

61 038， ?， 59 802  
 (最大) (最小)

方格內的數可能是：

- A. 63 015      ○ B. 61 040      ○ C. 59 820      ○ D. 50 982



利用以下數卡組成最接近三萬的五位數。



答案：\_\_\_\_\_

# 測驗 1

測驗範圍：練習 1 至 9  
 限時：30 分鐘

## (一) 計算以下各題。(每題 2 分，共 8 分)

- $62 \times 8 =$  \_\_\_\_\_
- $130 \times 4 =$  \_\_\_\_\_
- $15 \times 7 \times 6 =$  \_\_\_\_\_
- $2 \times 234 \times 5 =$  \_\_\_\_\_

## (二) 完成以下各題。(每題或每分題 2 分，共 8 分)

5. 下表顯示三條短片在網上的點擊人數。

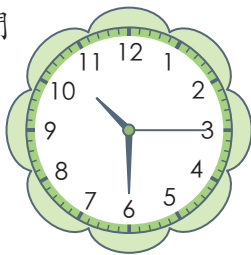
| 短片   | 《小狗做運動》 | 《BB 反白眼》 | 《企鵝也瘋狂》 |
|------|---------|----------|---------|
| 點擊人數 | 10 200  | 11 872   | 10 890  |

把三條短片的點擊人數由少至多排列起來。


答案：\_\_\_\_\_， \_\_\_\_\_， \_\_\_\_\_  
 (最少) (最多)

6. 姐姐估計摺一隻紙鶴要用 35 秒。以下的鐘面顯示姐姐摺紙鶴的開始時間和結束時間。

開始時間



結束時間



(a) 姐姐實際用了 \_\_\_\_\_ 秒。

(b) 實際時間比估計時間 \* 多 / 少 用了 \_\_\_\_\_ 秒。(\* 圈出答案)