



# 1 上目錄

1	認識 1 至 10	2
2	認識 11 至 20	4
3	順數和倒數	6
4	奇數和偶數 	8
5	比較數量	10
6	次序	12
7	2 至 10 的分解和合成	14
8	11 至 13 的分解和合成 	16
9	14 至 18 的分解和合成	18
10	立體圖形	20
奇趣紀錄簿		22
測驗 1		24
11	基本加法 	28
12	基本減法	30
13	加減應用題	32
14	0 的認識	34
15	物件的相對位置 	36
16	長度和距離	38
17	量度活動 	40
18	數獨 (增潤)	42
數學迷蹤 1		44
數學迷蹤 2		45
測驗 2		46
考試		50



# 認識 1 至 10

# 1

## 溫習一刻

數物件時，用筆作小標記，可以避免重複數數。

在  內填上蝴蝶的數量。



( ) ( ) ( ) ( )



常見題目

數一數，填一填。

1.

2.

3.

依數字，圈一圈。





4.

5.

6. 用中國數字寫出「5」。

答案：\_\_\_\_\_

7. 子欣有一套 8 個款式的貼紙，以下哪一套是她的貼紙？

- A.  ○ B.  ○ C.  ○ D. 

8.




(a) 上圖有盛着點心的  \_\_\_\_\_ 個。

(b) 上圖有  \_\_\_\_\_ 個。

(c) 上圖有  \_\_\_\_\_ 個。

9. 以下哪一個數讀作「八」？

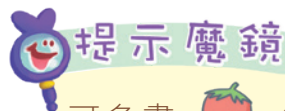
- A.  ○ B.  ○ C.  ○ D. 

10. 玲玲有以下的  。



(a) 玲玲有 \_\_\_\_\_ 粒  。

(b) 多加 1 粒  後，玲玲便有 \_\_\_\_\_ 粒  。



可多畫  1 粒，再數一數。


# 測驗 1

測驗範圍：練習 1 至 10  
 限時：30 分鐘

(一) 在 \_\_\_\_\_ 上填上答案。(每題或每分題 2 分，共 16 分)



上圖共有曲奇餅 \_\_\_\_\_ 塊。



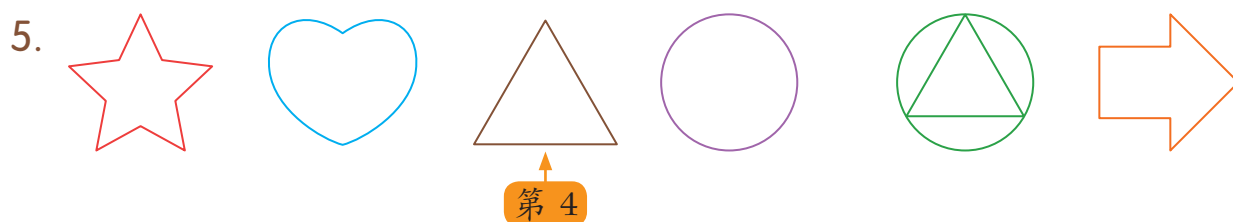
根據以上的規律，●是 \_\_\_\_\_。




(a) 6 和  合成為 。

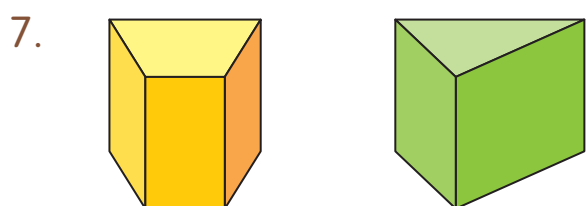
(b)  +  =

4. 由 9 開始倒數，下一個數是 \_\_\_\_\_。



上圖中， 排第 \_\_\_\_\_。

6. 在 20 以內，最大的奇數是 \_\_\_\_\_。



以上兩個立體都是 \_\_\_\_\_。