



# 2上目錄

1	三位數 	2
2	數數活動	4
3	加法 (一)	6
4	加法 (二)	8
5	減法	10
6	加減應用題 	12
7	角和垂直線	14
8	銳角和鈍角	16
9	米	18
奇趣紀錄簿		20
測驗 1		22
10	乘法的認識	26
11	2、5 和 10 的乘法	28
12	3 和 6 的乘法 	30
13	4 和 8 的乘法	32
14	7、9、1 和 0 的乘法 	34
15	報時	36
16	年和月 	38
17	立體圖形	40
18	記時和計時工具 (增潤)	42
數學迷蹤 1		44
數學迷蹤 2		45
測驗 2		46
考試		50



# 三位數

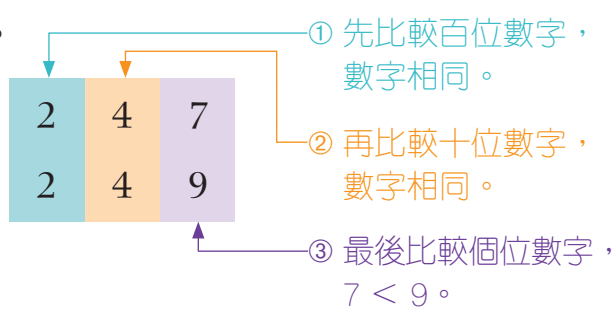
1

## 溫習一刻

比較三位數的大小時，先比較百位數字，若數字相同，再依次比較十位和個位數字。

在  內填上 >、< 或 =。

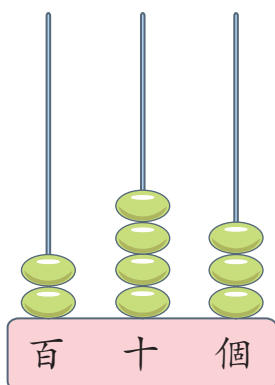
247  249



常見題目

寫出算柱所表示的三位數的寫法和讀法。

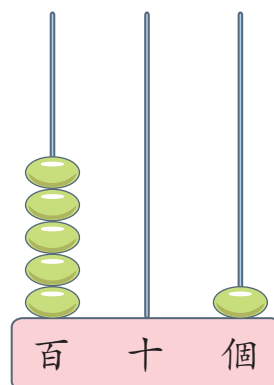
1.



寫作：\_\_\_\_\_

讀作：\_\_\_\_\_

2.



寫作：\_\_\_\_\_

讀作：\_\_\_\_\_

依順數或倒數，填上數字。

3.



4.



5. 924 是一個 \* 奇數 / 偶數，數字「9」表示的數值是 \_\_\_\_\_。

(\* 圈出答案)

6. 以下哪一個數的百位數字是「2」，而個位數字是「5」？

○ A. 125          ○ B. 251

○ C. 512          ○ D. 215



提示魔鏡  
可先剔除百位數字不是「2」的選項。

7. 下表顯示玩具展首三天的參觀人數。

日子	第一天	第二天	第三天
參觀人數	784	687	653

(a) 把玩具展首三天的參觀人數由少至多排列起來。

答案：\_\_\_\_\_，\_\_\_\_\_，\_\_\_\_\_。  
(最少)    (最多)

(b) 第 \_\_\_\_\_ 天和第 \_\_\_\_\_ 天的參觀人數的十位數字相同。

8. 子明用 **8**、**5** 和 **9** 排出不同的三位數。

(a) 最大的三位數：\_\_\_\_\_

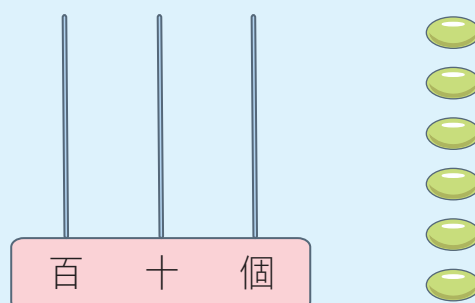
(b) 最小的三位偶數：\_\_\_\_\_



提示魔鏡  
要排出三位偶數，個位要放哪一個數字？



把 6 粒算珠放在算柱上，以表示最小的三位數，這個數是 \_\_\_\_\_。



# 測驗 1

測驗範圍：練習 1 至 9  
 限時：30 分鐘


(一) 計算以下各題。(每題 2 分，共 8 分)

1.  $316 + 97 =$  \_\_\_\_\_
2.  $45 - 26 =$  \_\_\_\_\_
3.  $25 + 37 + 88 =$  \_\_\_\_\_
4.  $89 - 18 - 25 =$  \_\_\_\_\_

(二) 在 \_\_\_\_\_ 上填上答案。(每題 2 分，共 8 分)



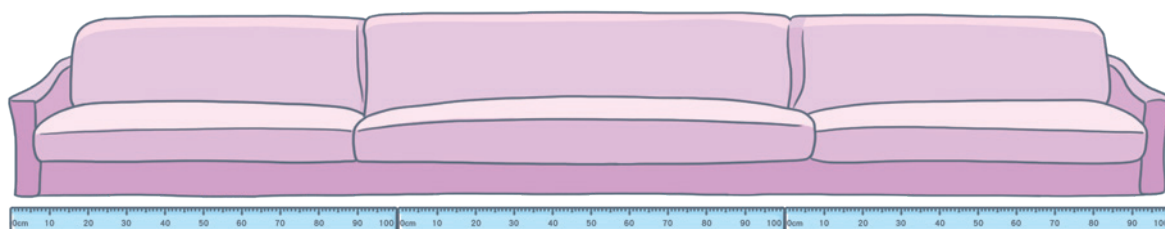
每 25 罐一組數數，以上有 \_\_\_\_\_ 個 25，共有汽水 \_\_\_\_\_ 罐。



太陽眼鏡便宜了 \_\_\_\_\_ 元。

7. 3 個 50 多 25 是 \_\_\_\_\_。

8. 慧敏用米尺  來量度沙發的長度。



沙發長約 \_\_\_\_\_ 米。