



3上目錄

1	認識五位數	2
2	比較數的大小 	4
3	乘法 (一)	6
4	乘法 (二)	8
5	乘法 (三) 	10
6	毫米	12
7	公里	14
8	秒和活動時間	16
9	24 小時報時制	18
奇趣紀錄簿		20
測驗 1		22
10	除法 (一)	26
11	除法 (二)	28
12	除法 (三) 	30
13	乘除應用題 	32
14	平行線	34
15	平行四邊形和梯形	36
16	製作平行四邊形和梯形	38
17	重量的認識 	40
18	克和公斤	42
數學迷蹤 1		44
數學迷蹤 2		45
測驗 2		46
考試		50



認識五位數

1

溫習一刻

五位數由左至右的數位是：

萬位	千位	百位	十位	個位
----	----	----	----	----

❖ 如個位數字是 1、3、5、7 或 9，該數便是奇數。

❖ 如個位數字是 2、4、6、8 或 0，該數便是偶數。

用中國數字寫出「30062」。

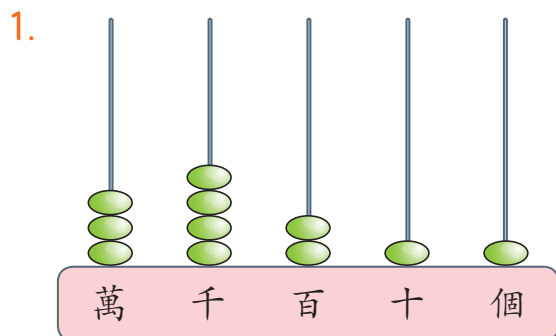
答案：_____

萬	千	百	十	個
3	0	0	6	2



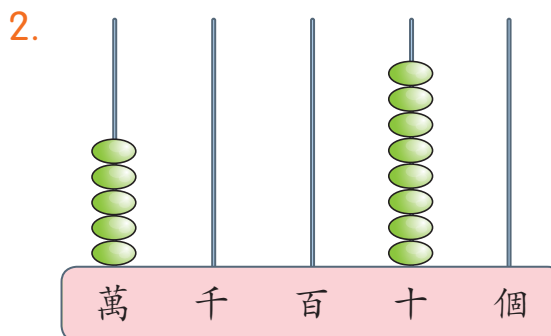
常見題目

用阿拉伯數字和中國數字寫出以下算柱所表示的數。



阿拉伯數字：_____

中國數字：_____



阿拉伯數字：_____

中國數字：_____

依規律填一填，圈一圈。

3.

10789	10790	10791		10793	
-------	-------	-------	--	-------	--

這是 (順數 / 倒數)

4.

23405	23404		23402		
-------	-------	--	-------	--	--

這是 (順數 / 倒數)



日期：



分數：

5. 以下哪些數是偶數？圈出所有答案。

13549

46783

25674

10425

39628

6. 在 39724 這個數中，

(a) 萬位數字是 _____，表示 _____。

(b) 數字「9」是在 _____ 位，表示 _____。

7. 以下哪一個數的萬位數字是「8」，而百位數字是「1」？

A. 10867

B. 81067

C. 80167

D. 18067



提示魔鏡

先剔除萬位數字不是「8」的選項，再找出餘下選項中，哪一個的百位數字是「1」。

8.

13528

61347

23095

30296

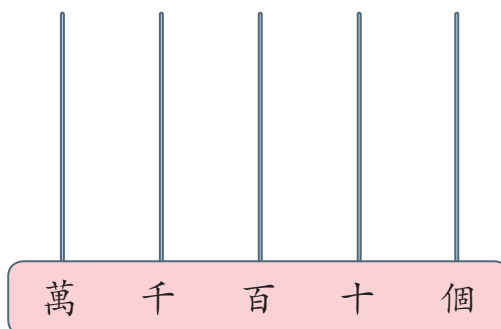
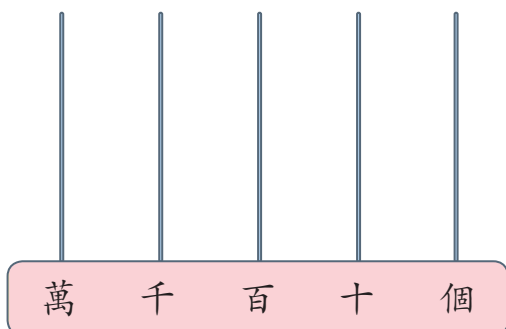
(a) 以上各數中，_____ 的千位數字是 3，它是一個奇數。

(b) 用中國數字寫出這個五位數：_____

9. 在算柱畫上算珠，表示以下各數。

(a) 52467

(b) 13004



測驗 1

測驗範圍：練習 1 至 9
 限時：30 分鐘

(一) 計算以下各題。(每題 2 分，共 8 分)

- $62 \times 8 =$ _____
- $130 \times 4 =$ _____
- $15 \times 7 \times 6 =$ _____
- 28 元 4 角 $\times 3 =$ _____

(二) 完成以下各題。(每題或每分題 2 分，共 8 分)

5. 下表顯示三條短片在網上的點擊人數。


短片	《小狗做運動》	《BB 反白眼》	《企鵝也瘋狂》
點擊人數	10200	11872	10890

把三條短片的點擊人數由少至多排列起來。


答案：_____， _____， _____
 (最少) (最多)

6. 姐姐估計摺一隻紙鶴要用 35 秒。以下的鐘面顯示姐姐摺紙鶴的開始時間和結束時間。

開始時間



結束時間



(a) 姐姐實際用了 _____ 秒。

(b) 實際時間比估計時間 * 多 / 少 用了 _____ 秒。(* 圈出答案)