

目錄

樂思數學 26 週進階訓練 (新課程版)

樣本

練習	課題	學習重點	頁次
1	認識五位數	<ul style="list-style-type: none">• 認識五位數和萬位的概念。• 進行五位數的順數和倒數。• 認識五位數的單數和雙數。	4
2	比較數的大小	<ul style="list-style-type: none">• 比較數的大小。• 組成指定的五位數。	6
3	公里	<ul style="list-style-type: none">• 認識公里 (km)，並以公里為單位，比較物件的長度和物件間的距離。	8
4	毫米	<ul style="list-style-type: none">• 認識毫米 (mm)，並以毫米為單位，量度及比較物件的長度和物件間的距離。• 以合適的單位記錄物件的長度和物件間的距離。• 選擇合適的工具進行量度。	10
5	乘法複習	<ul style="list-style-type: none">• 複習基本乘法。	12
6	乘法 (一)	<ul style="list-style-type: none">• 進行簡單乘法運算 (兩位數 \times 一位數 或 一位數 \times 兩位數)。• 估計計算結果。	14
7	乘法 (二)	<ul style="list-style-type: none">• 進行簡單乘法運算 (三位數 \times 一位數 或 一位數 \times 三位數)。• 進行三個數的乘法運算。• 估計計算結果。	16
8	乘法應用題	<ul style="list-style-type: none">• 解答乘法應用題。• 分辨和解答一步運算的應用題。	18
9	時間應用題 (一)	<ul style="list-style-type: none">• 解答有關時間間隔和結束時間的簡單應用題。	20
10	時間應用題 (二)	<ul style="list-style-type: none">• 解答有關開始時間的簡單應用題。	22
11	秒	<ul style="list-style-type: none">• 認識秒 (s)，並以「秒」為單位，量度及比較時間間隔。• 認識秒錶，並以秒錶量度時間間隔。	24
12	除法複習	<ul style="list-style-type: none">• 複習基本除法。	26



練習	課題	學習重點	頁次
13	除法(一)	<ul style="list-style-type: none"> 進行簡單除法運算(兩位數 ÷ 一位數)。 估計計算結果。 	28
14	除法(二)	<ul style="list-style-type: none"> 進行簡單除法運算(三位數 ÷ 一位數)。 進行三個數的除法運算。 估計計算結果。 	30
15	除法應用題	<ul style="list-style-type: none"> 解答除法應用題, 包括涉及餘數的處理。 分辨和解答一步運算的應用題。 	32
16	認識及比較重量	<ul style="list-style-type: none"> 認識重量的概念。 直觀和直接比較物件的重量。 利用工具幫助比較物件的重量。 以自訂單位比較物件的重量。 	34
17	克和公斤	<ul style="list-style-type: none"> 以「克(g)」和「公斤(kg)」為單位, 量度及比較物件的重量。 以合適的單位記錄物件的重量。 選擇合適的工具進行量度。 	36
18	平行線	<ul style="list-style-type: none"> 認識平行線的概念。 繪畫和製作平行線。 	38
19	平行四邊形	<ul style="list-style-type: none"> 認識平行四邊形的概念和性質。 認識正方形和長方形皆為平行四邊形。 製作及繪畫平行四邊形。 	40
20	梯形	<ul style="list-style-type: none"> 認識梯形的概念和性質。 製作及繪畫梯形。 	42
21	24小時報時制	<ul style="list-style-type: none"> 認識「12小時報時制」和「24小時報時制」。 以「24小時報時制」報時。 	44
試前急救站			46
測驗及考試對應課題			48

隨書附送：

- 測驗卷及考試卷
- 答案



學習重點 • 解答有關開始時間的簡單應用題。

根據下列小朋友的活動時間，在 ___ 上填上答案。

① 開始時間



過了 24 分鐘

結束時間



子雯在 _____ 時 _____ 分開始彈結他。

② 開始時間



過了 4 小時

結束時間



明輝在 _____ 時 _____ 分開始聽音樂。

③ 開始時間



過了 32 分鐘

結束時間



樂怡在 _____ 午 _____ 時 _____ 分開始唱歌。

完成下列各題。

④ 花車巡遊進行了 2 小時，在 **10:36 p.m.** 完結。

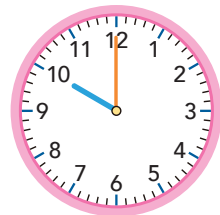
花車巡遊在 _____ 午 _____ 時 _____ 分開始。

⑤ 李老師在 **12:22 p.m.** 完成批改功課。

李老師批改功課用了 1 小時，她在 _____ 午 _____ 時 _____ 分開始批改。

⑥ 右面的鐘面顯示陸運會跳遠比賽的開始時間。

a. 大會在比賽開始前 15 分鐘集合運動員。集合時間是上午 _____ 時 _____ 分。



b. 健明在上午 9 時 31 分到達運動場。他 * 能夠 / 不能夠 準時集合。(* 圈出答案)





日期：_____



俊亨和家人到郊外遊玩一天。在 _____ 上寫出時間，並完成下列各題。



出發



開始郊遊



47 分鐘後

a. _____ 午 _____ 時 _____ 分

燒烤完畢




開始燒烤



3 小時後

b. _____ 午 _____ 時 _____ 分

開始釣魚




起程回家



c. _____ 小時後

⑧ 俊亨在開始郊遊的 2 小時前起牀，他的起牀時間是 _____ 午 _____ 時 _____ 分。

⑨ 妹妹在開始燒烤的 26 分鐘後烤好雞翼，她在 _____ 午 _____ 時 _____ 分烤好雞翼。

⑩ 爸爸在  釣到了魚，他在開始釣魚的 _____ 分鐘後釣到了魚。





考試

標本



考試範圍：練習 1 至 21



限時：50 分鐘

姓名：_____

班別：_____

日期：_____

總分：_____ / 100

在 _____ 上填上答案。(每分題 1 分，共 4 分)

分

① a. 43 206 讀作：_____

b. 三萬六千零二十九寫作：_____

② a. 在 50 820 這個數中，「8」在 _____ 位，表示 _____。

b. 在 58 006 這個數中，「8」在 _____ 位，表示 _____。

根據三個屋苑住宅單位的租金資料，完成下列各題。(每題 2 分，共 4 分)

分

屋苑	清雅苑	海風花園	山景花園
全年租金	74 650 元	78 600 元	77 430 元

③ 把三個屋苑住宅單位的全年租金由低至高排列出來。

答案：_____ 元，_____ 元，_____ 元
(最低) (最高)

④ 張先生打算租住以上其中一個屋苑的單位，但他的預算只有 78 000 元。他可選擇租住哪一 / 哪些屋苑的單位？

答案：他可選擇租住 _____ 的單位。

計算下列各題。(每題 1 分，共 11 分)

分

⑤

$$\begin{array}{r} 627 \\ \times \quad 7 \\ \hline \end{array}$$

⑥

$$3 \overline{)45}$$

⑦

$$7 \overline{)575}$$